

جماعت اول مضمون علم ریاضی

ہدایت، چھوٹے ہوئے اعداد کو لکھئے۔

1				5
		3		
	2			5
1		3		
			4	

سنگ میل 3

مندرجہ ذیل جمع کے مسائل حل کریں۔

3	1	3	2	2+1=
+2	+1	+1	+2	2+3=
				4+1=
2	2	1	1	3+2=
+1	+3	+2	+4	1+1=
				2+2=
4	1	2	1	3+1=
+1	+3	+3	+2	1+2=
				1+4=

سنگ میل 4

ہدایت، مندرجہ ذیل مسائل کی تفریق کیجئے۔

4	3	5	5	4-3=
-2	-1	-2	-1	5-2=
				5-1=

ہدایت، مندرجہ ذیل مسائل کی تفریق کیجئے۔

5	5	4	3	4-1=
-4	-3	-3	-2	3-1=
				2-1=
2	3	4	4	4-2=
-1	-2	-2	-1	5-3=
				5-4=

سنگ میل 5

1 تا 9 اعداد کو صف اور قطار میں لکھئے۔

		3			7		
--	--	---	--	--	---	--	--

2
5

STUDY MANZIL
WWW.STUDYMANZIL.COM
WORK BY: YASEEN BHIKBA

1
8

			4		6		
--	--	--	---	--	---	--	--

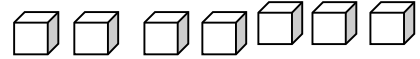
ہدایت، گن کر لکھئے۔

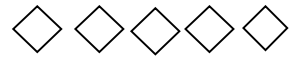












سنگ میل 6

زیادہ قیمت والے عدد پر دائرہ بناؤ	کم قیمت والے عدد پر دائرہ بناؤ	مساوی عدد پر دائرہ بنائیں
18	29	88
79	78	63
64	35	11
25	61	47
79	47	55
مندرجہ ذیل اعداد کو گھٹتی ہوئی ترتیب میں لکھو	مندرجہ ذیل اعداد کو بڑھتی ہوئی ترتیب میں لکھو	
4 8 6 3	4 3 8 6	
5 4 9 7	9 5 4 3	
4 3 1 8	1 7 8 4	
9 3 8 4	3 1 2 5	

اگلا، پچھلا اور درمیانی عدد لکھئے۔

	8	9	5	6		6		8
	2	3	1	2		3		5
	7	8	6	7		7		9
	4	5	7	8		4		6
	2	3	3	4		1		3
	6	5	4	5		5		7

سنگ میل 7

ہدایت۔ مندرجہ ذیل اعداد کا مجموعہ معلوم کریں۔

3	2	8	5	2+3=	4+4=
+3	+6	+1	+3	6+3=	3+5=
				2+4=	3+3=
4	4	4	7	4+5=	5+4=
+5	+3	+4	+2	2+2=	7+2=
				1+1=	3+2=
6	2	3	5	2+7=	6+2=
+3	+5	+3	+1	4+3=	1+2=
				4+5=	6+1=
4	6	3	1	2+3=	2+7=
+3	+2	+1	+8	4+4=	8+1=
				5+3=	5+2=

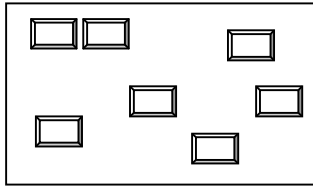
سنگ میل 8

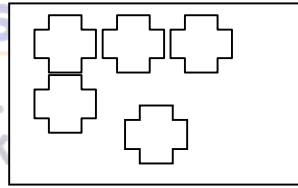
مندرجہ ذیل اعداد تفریق کریں۔


6	7	8	5	$9-5=$	$7-1=$
5-	-3	-2	-2	$5-2=$	$4-2=$
				$8-5=$	$6-4=$
6	9	8	9	$5-1=$	$5-3=$
-3	-2	-3	-5	<input type="text"/> -2=5	<input type="text"/> -3=6
				9- <input type="text"/> =7	8- <input type="text"/> =2


سنگ میل 9


ہدایت: خاکوں کو گن کر دئے مربوں میں لکھئے۔

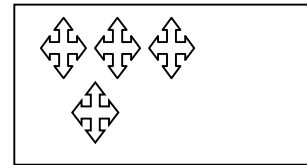




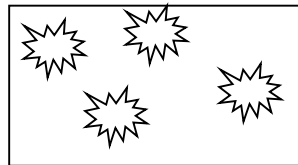














ہدایت نمبر 2: ہندسوں کے مطابق ✨ ستارے بنائیے۔

مثال: 4 ✨ ✨ ✨ ✨

3

0

4

9

2

سنگ میل 10

ہدایت: جمع کیجئے

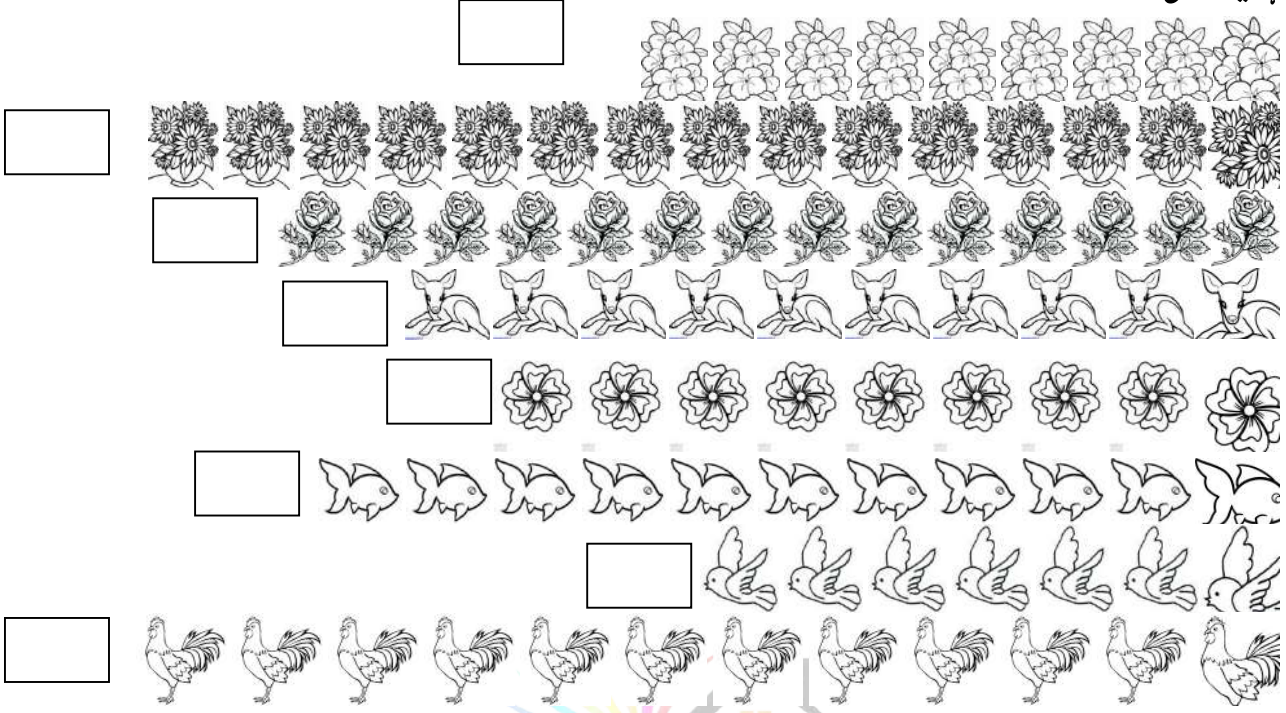
3	0	5	0	8+0=
+0	+2	+0	+5	4+0=
				6+0=
7	0	0	9	3+0=
+0	+0	+3	+0	0+5=
				0+1=

ہدایت: تفریق کیجئے۔

9	4	8	6	5+0=
-0	-4	-0	-0	7-7=
				6-6=
5	2	3	0	2-0=
-5	-2	-0	-0	3-3=
				7-0=

سنگ میل 11

ہدایت: گن کر لکھئے



اکائی دہائی الگ کیجئے			مقامی قیمت کے تحت اعداد لکھئے		
دہائی	اکائی	عدد	عدد	دہائی	اکائی
		18	12	1	2
		10		0	5
		13		1	6
		6		1	0
		12		0	4
		15		1	3
		7		1	1
		11		1	0
		16		0	7

سنگ میل 12

زیادہ قیمت والے عدد پر دائرہ بنائیے		کم قیمت والے عدد پر دائرہ بنائیے		مساوی قیمت والے عدد پر دائرہ بنائیے	
10	18	14	13	15	13
15	12	11	19	18	18
16	8	4	15	11	16
11	17	9	17	14	14
12	18	11	13	12	17
9	4	12	9	13	13
5	3	18	16	9	9
پچھلا عدد لکھئے		اگلا عدد لکھئے		درمیانی عدد لکھئے	
10	17	12	12	12	12
15	14	10	10	17	17
14	13	13	13	16	16
9	10	17	17	11	11
11	9	15	15	13	13
12	15	11	11	14	14
زیادہ قیمت والے عدد پر دائرہ بنائیے			کم قیمت والے عدد پر دائرہ بنائیے		
12	19	17	1	9	15
9	13	8	18	13	14
14	12	13	16	5	12
18	8	16	9	10	14
13	16	12	13	10	17
10	6	9	15	19	12
11	17	19	12	18	16

گھٹتی ہوئی ترتیب میں لکھئے			بڑھتی ہوئی ترتیب میں لکھئے		
11	17	مثال: 15	12	9	مثال: 10
17	15	11	9	10	12
14	19	12	8	15	11
10	8	11	16	7	14
9	13	17	13	17	15
18	17	16	19	10	7
12	14	19	8	16	18

WWW.STUDYMANZIL.COM

سنگ میل 13

14	11	9	13	9+9=
+4	+18	+9	+3	14+2=
				12+5=
17	12	18	5	13+3=
+2	+5	+1	+13	15+4=
				14+1=
15	14	13	10	10+6=
+3	+2	+6	+9	12+6=
				2+13=

سنگ میل 14

ہدایت: درج ذیل کی تفریق کیجئے

15	14	11	18	14-2=
-3	-3	-0	-6	16-2=
				10-0=
14	12	18	16	13-3=
-2	-1	-3	-4	14-4=
				15-1=
17	14	17	12	12-2=
-3	-2	-4	-2	17-4=
				19-6=



سنگ میل 15

























































WWW.STUDYMANZIL.COM
WORK BY: YASEEN BHIKBA


ہدایت: درج ذیل مسائل حل کیجئے۔

5+3-4=	2+3-4=	15+3-7=	12+4-3=
4+5-2=	6+2-1=	13+4-5=	13+6-8=
8+1-7=	4+5-0=	14+3-4=	14+3-7=
5+2-7=	2+2-2=	13+3-2=	18+1-6=
7+2-9=	3+5-8=	15+4-3=	17+2-5=
4+3-1=	2+6-7=	12+4-2=	19+0-6=
7+3-5=	5+4-3=	12+4-6=	15+4-8=
4+3-2=	6+3-1=	15+4-9=	12+0-2=
6+2-7=	4+4-5=	10+5-4=	13+6-0=

سنگ میل 16


درج ذیل جدول میں موجود تصاویر گن کر لکھئے

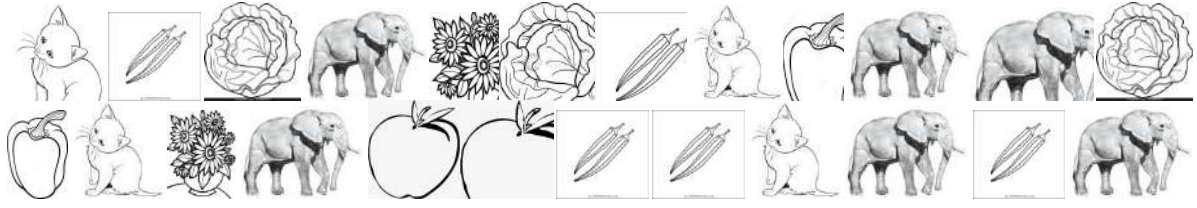


سنگ میل 17
WWW.STUDYMANZIL.COM
WORK BY: YASEEN BUKHARI

دی گئی تصویر میں اشکال پہچان کر گنتی کر کے لکھئے۔



درج ذیل تصاویر گن کر لکھئے۔



گن کر لکھئے۔



سنگ میل 17

ہدایت: ہفتے کے دن پڑھتے ہوئے لکھئے۔

اتوار	پیر	منگل	بدھ	جمعرات	جمعہ	سنپچر

خانہ پری کیجئے۔

- 1۔ ہفتے کا پہلا دن کونسا ہے؟ _____
- 2۔ ہفتے کا آخری دن کونسا ہے؟ _____
- 3۔ منگل سے پہلے کونسا دن آتا ہے؟ _____
- 4۔ جمعہ کا پچھلا دن کونسا ہے؟ _____
- 5۔ سورج کب طلوع ہوتا ہے؟ _____
- 6۔ سورج کب غروب ہوتا ہے؟ _____
- 7۔ مدرسہ میں کھانے کی گھنٹی کب بجتی ہے؟ _____
- 8۔ آپ اسکول کب آتے ہیں؟ _____
- 9۔ آپ کے اسکول کو کس دن چھٹی ہوتی ہے؟ _____
- 10۔ آپ کس وقت کھلتے ہیں؟ _____



WWW.STUDYMANZIL.COM
WORK BY: YASEEN BHIKBA

درج ذیل اشیاء ناپ کر لکھئے۔

- 1۔ میز کی چوڑائی، بالشت میں _____
- 2۔ درتچے کی چوڑائی، ہی بالشت میں _____
- 3۔ تختہ سیاہ کی لمبائی، ہاتھ میں _____
- 4۔ کمرے کی دیوار کی لمبائی، بام میں _____
- 5۔ دالان کی لمبائی، قدم میں _____
- 6۔ میدان کی چوڑائی، قدم میں _____
- 7۔ کمرے کی لمبائی ہاتھ میں _____

سنگ میل 20

روپے سے پہچانے۔



shutterstock.com · 201607463

