

جماعت دوم مضمون علم ریاضی

سنگ میل 2

50 تا 1 تک گنتی لکھئے۔

1	11	21	31	41

WWW.STUDYMANZIL.COM
WORK BY: YASEEN BHIKBA

سنگ میل 3

ہدایت، اگلے پچھلے درمیانی اعداد لکھئے۔

	45	46		38	39		23	24
19	20		17		19	29		31
48	49		14			47	48	
21		23	28	29			42	43
35	36		15		17			7
42		44	25	26			10	

علامت کے مطابق اعداد لکھئے						درجہ ذیل اعداد کو مناسب علامت لگائے۔					
	=	40	35	>		18		18	16		24
33	>			=	40	45		31	50		50
	<	78	30	<		23		21	48		20
19	=			>	28	60		60	12		37
	>	23	16	<		34		43	32		16
زیادہ قیمت والے عدد پر دائرہ بنائے						کم از کم قیمت والے عدد پر دائرہ بنائے					
28	17	30	15	4	9	18	27	37	15	11	26
50	28	32	36	15	28	14	21	33	45	50	21
49	21	16	18	25	10	23	30	9	50	40	10
61	19	42	24	85	36	70	60	50	12	8	17
درج اعداد کو گھٹتی ہوئی ترتیب میں لکھئے						درج ذیل اعداد کو بڑھتی ہوئی ترتیب میں لکھئے					
42	81	56	32			90	32	26	45		
81	56	42	32			26	32	45	90		
50	20	9	18			17	9	28	10		
28	17	30	40			12	30	18	43		
15	4	9	30			36	15	28	40		
16	38	16	25			49	41	46	45		

درج اعداد کو گھٹتی ہوئی ترتیب میں لکھئے				درج ذیل اعداد کو بڑھتی ہوئی ترتیب میں لکھئے			
25	18	43	28	8	10	40	30
5	25	45	35	26	16	38	29
42	18	28	33	32	28	16	42
43	51	34	15	62	81	26	18

مندرجہ ذیل سرگرمیوں کو مکمل کیجئے۔

1- تصاویر دیکھ کر خانہ پری کیجئے۔



1- ہاتھی صف میں _____ مقام پر ہے۔

2- درخت صف میں _____ مقام پر ہے۔

3- صف میں پانچویں مقام پر _____ ہے۔

4- صف میں پہلے مقام پر _____ ہے۔

5- پھول صف میں _____ مقام پر ہے۔

6- صف میں تیسرے مقام پر _____ ہے۔

سنگ میل 4

مندرجہ ذیل مسائل حل کیجئے۔

43	36	19	22	18+11=
+35	+23	+21	+26	40+10=
				26+23=

مندرجہ ذیل مسائل حل کیجئے۔

45	48	36	44	17-10=
-23	-26	-13	-22	18-16=
				45-23=
30+18-5=	12+14-6=	23+25-24=	32+14-15=	32+15-36=

مندرجہ ذیل مسائل حل کیجئے۔

1- اقراء کے گھر میں ایک گائے صبح میں 12 لیٹر اور شام میں 15 لیٹر دودھ دیتی ہے۔ جس میں 14 لیٹر فروخت کیا جاتا ہے تو

اقراء کے گھر میں کتنا دودھ باقی بچتا ہے؟

- صبح میں دیا جانے والا دودھ
- شام میں دیا جانے والا دودھ
- جملہ دودھ
- فروخت کیا گیا دودھ
- بقیہ دودھ



WWW.STUDYMANZIL.COM
WORK BY: YASEEN BHIKBA


1- اوس کے پاس 24 گولیاں ہیں۔ پھر مستقیم کے پاس سے 15 گولیاں حاصل کر لیتا ہے۔ جملہ گولیوں میں سے 16 گولیاں اپنے دوست کو دیتا ہے۔ بتاؤ اوس کے پاس کتنی گولیاں بچیں۔

- اوس کے پاس موجود گولیاں
- مستقیم سے حاصل کردہ گولیاں
- جملہ گولیاں
- دوست کے دی گئے گولیاں
- اوس کے پاس بچی ہوئی گولیاں

سنگ میل 5

34	25	17	15	18+28=
+13	+24	+18	+16	19+25=
				23+26=
43	43	34	27	31-15=
-25	-28	-19	-18	42-27=
				43-28=
25+16-17=	28+16-9=	32+45-17=	33+24-15=	19+26-28=

1- ایک مدرسے کی پہلی جماعت میں 15 طلباء اور دوسری جماعت میں 16 طلباء ہیں۔ ان میں 24 لڑکیاں ہیں۔ تو لڑکوں کی تعداد معلوم کرو۔



 پہلی جماعت کے طلباء کی تعداد

 دوسری جماعت کے طلباء کی تعداد

 جملہ طلباء کی تعداد

 لڑکیوں کی تعداد

 لڑکوں کی تعداد

2- اشرف کے پاس 35 گولیاں ہیں۔ ذاکر سے وہ 18 گولیاں لیتا ہے۔ کھیل میں وہ 19 گولیاں ہار جاتا ہے۔ تو بتاؤ اشرف کے پاس کتنی گولیاں باقی بچیں۔

اشرف کے پاس موجود گولیاں

 ذاکر سے حاصل کردہ گولیاں

 جملہ گولیوں کی تعداد

 ہاری ہوئی گولیوں کی تعداد

 اشرف کے پاس باقی بچی ہوئی گولیوں کی تعداد

گنتی مکمل کیجئے

1		21		
				42
	13			
		24		
5				45
			36	
	17			
		28		
9				
			40	



گنتی مکمل کیجئے۔

1		4			8		
		13			16		20
	22			25			29
31			34			38	
		43				47	50

ہدایت: سوالوں کے جواب لکھئے۔

50 میں اکائی کے مقام کا ہندسہ۔۔۔۔۔	56 میں 6 کو مقام پر ہے؟۔۔۔۔۔	60 میں دہائی کے مقام کا ہندسہ۔۔۔۔۔
67 میں 7 کس مقام پر ہے؟۔۔۔۔۔	73 میں دہائی کو مقام پر۔۔۔۔۔ ہے۔	76 میں 7۔۔۔۔۔ مقام پر ہے۔
85 میں 5۔۔۔۔۔ مقام پر ہے۔	89 میں 9۔۔۔۔۔ مقام پر ہے۔	93 میں دہائی کے مقام پر۔۔۔۔۔ ہے۔
97 میں 7۔۔۔۔۔ مقام پر ہے۔	34 میں اکائی کے مقام پر۔۔۔۔۔ ہے۔	20 میں 0۔۔۔۔۔ مقام پر ہے۔

ہدایت: درج ذیل میں ہر ہندسے کی مقامی قیمت لکھئے۔

عدد	مقامی قیمت	عدد	مقامی قیمت	عدد	مقامی قیمت
66		74		35	30 5
87		69		88	
34		75		99	
38		44		55	

STUDY MANZIL

WWW.STUDYMANZIL.COM

WORK BY: YASEEN BHIKRA

ہدایت: بڑھتی ہوئی ترتیب میں لکھئے۔

55	8	10	67	17	30	18	27
43	99	18	32	15	28	45	50
87	42	35	19	70	90	60	20
72	96	27	69	45	54	36	36

گھٹی ہوئی ترتیب میں لکھئے۔

42	38	90	84	90	70	80	60
65	56	43	32	74	44	64	34
36	54	11	20	58	69	85	96

ہدایت: جفت اعداد کو پہچان کر لکھئے۔

70,58,91,82,75,49,66,77,31

--	--	--	--



60 سے 80 کے درمیانی طاق اعداد لکھئے۔

WWW.STUDYMANZIL.COM

WORK BY: YASEEN BHIKR

53 سے آگے کے 4 طاق اعداد لکھئے۔

53				
----	--	--	--	--

80 کے پیچھے کے 4 جفت اعداد لکھئے۔

				80
--	--	--	--	----

آگے پیچھے درمیانی اعداد لکھئے

	91			98	85		87
51				63	73		
	49			48	19		21
60				30			80

زیادہ، کم مساوی کی علامت لگائے۔ >, <, =

66		59	86		95	70		70
85		58	91		61	35		53
32		26	41		41	36		16

کم قیمت والے عدد پر دائرہ بنائیے۔

97	19	91	50	70	80	75	95	65
23	81	18	32	28	71	95	60	55
9	11	23	45	12	9	90	20	50

زیادہ قیمت والے عدد پر دائرہ بنائیے۔

99	89	79	73	69	57	63	60	66
50	90	40	36	17	29	89	98	88
42	65	32	84	14	36	9	12	43

WWW.STUDYMANZIL.COM

WORK BY: سنگ میل 9 ASSEN BHIKBA

ہدایت: درج ذیل مسائل حل کیجئے۔

42	50	63	46	40+30=
+26	+25	+33	+22	75+20=
				74+24=
66	68	35	98	77-66=
-22	-24	-21	-24	28-18=
				65-23=
25+30-20=	77+22-55=	56+23-60=	45+21-34=	42+36-28=

1- ریحانہ بازار سے 45 آم اور سلیمہ 24 آم خریدتے ہیں۔ دونوں جملہ کتنے آم خریدتے ہیں؟

ریحانہ نے خریدے ہوئے آم

سلیمہ نے خریدے ہوئے آم

خریدے گئے کل آم

2- نور کے پاس 35 بکریاں تھیں۔ بازار سے 40 بکریاں لاتا ہے۔ اگر وہ 50 بکریاں فروخت کرتا ہے تو بتاؤ نور کے پاس بقیہ بکریاں کتنی ہیں؟

نور کے پاس موجود بکریاں

بازار سے لائی گئی بکریاں

جملہ بکریاں

فروخت کی گئی بکریاں

نور کے پاس بقیہ بکریاں



حل کیجئے۔ جمع مع دہائی

54	49	68	36	62+29=
+18	+25	+18	+25	58+28=
				49+38=

حل کیجئے۔ تفریق مع دہائی

67	92	83	46	84-48=
-39	-69	-27	-18	75-57=
				63-28=

مسائل حل کیجئے۔

48+30-59=	50+25-30=	48+26-39=	65+27-47=
-----------	-----------	-----------	-----------

1- ایک پھول کے پودے میں 48 پھول ہیں۔ دوسرے پودے میں 26 پھول ہیں۔ بتاؤ دونوں پودوں میں جملہ کتنے پھول ہیں؟

پہلے پودے کے پھولوں کی تعداد

دوسرے پودے کے پھولوں کی تعداد

جملہ پھولوں کی تعداد

2- دانش پھل فروش ہے۔ واہ بازار سے 82 انار لاتا ہے۔ 47 انار فروخت کرتا ہے تو دانش کے پاس بچے ہوئے اناروں کی تعداد معلوم کیجئے۔

بازار سے خریدے ہوئے اناروں کی تعداد

فروخت کردہ اناروں کی تعداد

بچے ہوئے اناروں کی تعداد



حل کیجئے۔

6	4	2	7	5
+6	+4	+2	+7	+5
+6	+4	+2	+7	+5
6x3=	4x3=	2x3=	7x3=	5x3=

ایک پنسل کی قیمت 3 روپے ہے تو 8 پنسلوں کی قیمت کیا ہوگی؟

پنسلوں کی قیمت = ایک پنسل کی قیمت x پنسلوں کی تعداد

X =

ایک آم کی قیمت 5 روپے ہو تو 6 آموں کی قیمت کیا ہوگی؟

آموں کی قیمت = ایک آم کی قیمت x آموں کی تعداد

X =

سنگ میل 12

مندرجہ ذیل سوالوں کے جواب لکھئے۔

- 1-12 اناروں کو 4 لڑکوں میں تقسیم کیا جائے تو ہر ایک کے حاسے 'میں کتنے انار آئیں گے؟
- 2-20 طلباء کو 5 بچوں میں مساوی طور پر بٹھایا جائے تو ہر بچے پر کتنے طلباء بیٹھیں گے؟
- 3-15 گولیاں کتنے لوگوں میں مساوی طور پر تقسیم کر سکتے ہیں؟
- 4-18 کاپیاں تقسیم کرنے پر ہر طالب علم کے حصے میں 6 کاپیاں آتی ہیں تو طلباء کی تعداد کتنی ہے؟
- 5-مندرجہ ذیل کو 3 کے حساب سے تقسیم کیا جائے تو ہر عدد کے کتنے گروہ بنتے ہیں؟

اعداد	27	9	15	18	21	30	33
گروہ	9						

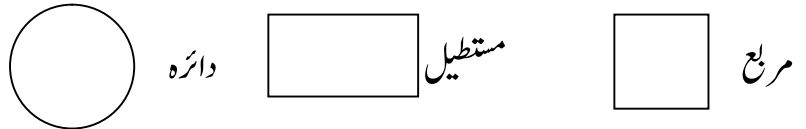
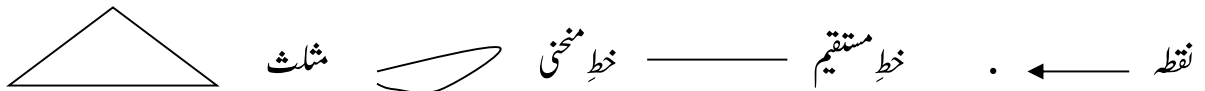
6-مندرجہ ذیل اعداد کو 4 کے سب سے گروہ بنائیے۔

اعداد	24	8	16	32	40	28	20
گروہ	6						


سنگ میل 13

WWW.STUDYMANZIL.COM
WORK BY: YASEEN BHIKBA

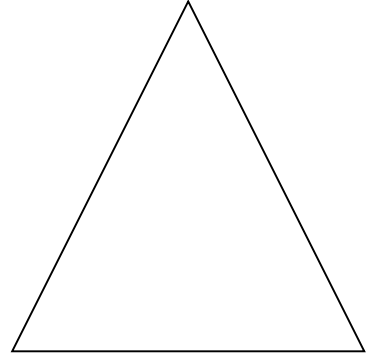




مندرجہ ذیل کی نقل کیجئے۔






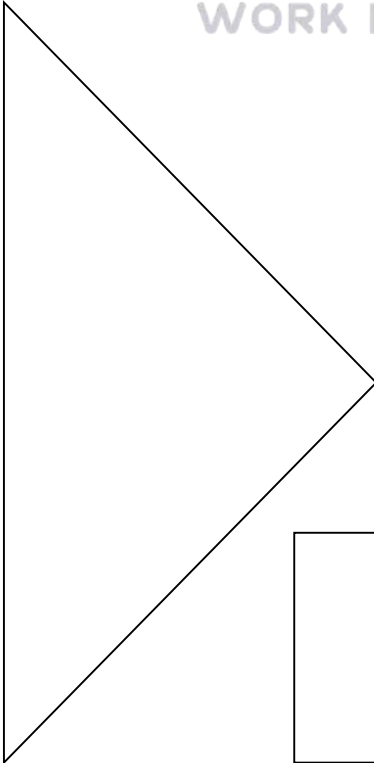
نقل کیجئے۔



درج ذیل تصاویر میں رنگ بھریئے۔



WWW.STUDYMANZIL.COM
WORK BY: YASEEN BUI



تمام طلباء کی لمبائی باشت میں معلوم کر کے لکھئے۔

					طالب علم کا نام
					لمبائی
					طالب علم کا نام
					لمبائی

سب سے لمبے طالب علم کا نام

لمبائی

سب سے پست قد طالب علم کا نام

لمبائی

گھر کے کمرے کی لمبائی باشت میں معلوم کر کے لکھئے۔

جماعت کے کمرے کی لمبائی باشت میں معلوم کر کے لکھئے۔

تختہ سیاہ کی لمبائی باشت میں ناپ کر لکھئے۔

سنگ میل 15

تمام طلباء کا وزن معلوم کر کے لکھئے۔

					طالب علم کا نام
					وزن
					طالب علم کا نام
					وزن

سب سے بھاری طالب علم کا نام

وزن

سب سے ہلکے طالب علم کا نام

وزن

میرا وزن

ہمارے استاد کا وزن

میرے گھر کے افراد کا وزن

					نام
					وزن

اپنی معلومات سے 10 بھاری اور 10 ہلکی اشیاء کی فہرست بنائیے۔

بھاری اشیاء	وزنی اشیاء	بھاری اشیاء	وزنی اشیاء
		کاغذ	کتاب

سنگم میل 16

مندرجہ ذیل کی تصویر بنائے۔

1۔ پانی کی بوتل

2۔ گھڑا



WWW.STUDYMANZIL.COM
WORK BY: YASEEN BHIKBA

3۔ جگ

4۔ گلاس

حجم معلوم کرنے کے پیمانوں کی تصاویر بنائیے۔

1/4 لیٹر کا پیمانہ

100-1 ملی لیٹر کا پیمانہ

1-4 لیٹر کا پیمانہ

1/2 لیٹر کا پیمانہ



WWW.STUDYMANZIL.COM
WORK BY: YASEEN BHIKBA

سنگم میل 17

مندرجہ ذیل سووالوں کے جوابات لکھئے۔

1۔ ہفتے کے دنوں کے نام ترتیب وار لکھئے۔

7	6	5	4	3	2	1

2- سال کے 12 مہینوں کے نام ترتیب وار لکھئے۔

6	5	4	3	2	1
12	11	10	9	8	7

3- ہر مہینے میں آنے والے دنوں کی تعداد لکھئے۔

جون	مئی	اپریل	مارچ	فروری	جنوری
ڈسمبر	نومبر	اکتوبر	سپٹمبر	اگست	جولائی

- 4- کئی اراجیو تسوا کونسے مہینے میں مناتے ہیں؟
- 5- اگست 15 کو کونسا قومی تہوار مناتے ہیں؟
- 6- تم اپنا جنم دن کونسے مہینے میں مناتے ہو؟
- 7- گاندھی جینتی کونسے مہینے میں مناتے ہیں؟
- 8- یوم اطفال کونسے مہینے میں منایا جاتا ہے؟
- 9- ہفتے کا پہلا دن کونسا ہے؟
- 10- تم صبح کتنے بجے اٹھتے ہو؟
- 11- ہفتے کا آخری دن کونسا ہے؟
- 12- تمہارے مدرسے کا وقت کیا ہے؟
- 13- ڈسمبر کے مہینے میں کتنے دن ہوتے ہیں؟

ہفتے کے دن نقل کیجئے

اتوار	پیر	منگل	بدھ	جمعرات	جمعہ	سنپچر

سال کے مہینے نقل کیجئے

جون	مئی	اپریل	مارچ	فروری	جنوری
ڈسمبر	نومبر	اکٹوبر	سپٹمبر	اگست	جولائی

سنگ میل 18

مندرجہ ذیل سوالوں کے جوابات لکھئے۔

- 1- ایک روپے میں 50 پیسے کے کتنے سکے ہوتے ہیں؟ _____
- 2- 50 پیسے کے کتنے سکے ڈالنے سے 2 روپے ہوتے ہیں؟ _____
- 3- ایک روپے میں 2 روپے جمع کرنے پر کتنے روپے ہوتے ہیں؟ _____
- 4- 5 روپے میں 5 روپے جمع کرنے پر کتنے روپے ہوتے ہیں؟ _____
- 5- 10 روپے میں 5 روپے تفریق کرنے پر کتنے روپے بچتے ہیں؟ _____
- 6- 25 پیسے اور 50 پیسے کا مجموعہ کتنے پیسے ہوتے ہیں؟ _____
- 7- ایک روپے میں 25 پیسے کے کتنے سکے ہوتے ہیں؟ _____
- 8- 10 روپے ہونے کے لئے 2 روپے کے کتنے سکے جمع کرنے ہوں گے؟ _____



سنگ میل 19

تصویروں کو دیکھ کر جواب دیجئے۔



WWW.STUDYMANZIL.COM

WORK BY: YASEEN BHIKBA

- 1- ہاتھیوں کی تعداد کتنی ہے؟
- 2- مرغیوں کو گن کر لکھئے؟
- 3- سنترے کتنے ہیں؟
- 4- پیاز کے تعداد کیا ہے؟
- 5- پھول کتنے ہیں؟
- 6- مرغیاں ہاتھیوں سے کتنی زیادہ ہیں؟
- 7- سنترے اور پیاز میں کیا کم ہے؟
- 8- مرغیوں اور پھول میں کونسے زیادہ ہیں؟
- 9- سیبوں کی تعداد بتائیے؟
- 10- سب سے کم تعداد میں کس کی تصویر ہے؟