

6 M -5

Bridge Course Work Sheet -05

جماعت: VI

صلاحیت 5: اجزائے ضربی اور مضاعف کو سمجھنا

مضمون: حساب

نام:

I. درج ذیل کے اجزائے ضربی معلوم کیجیے۔

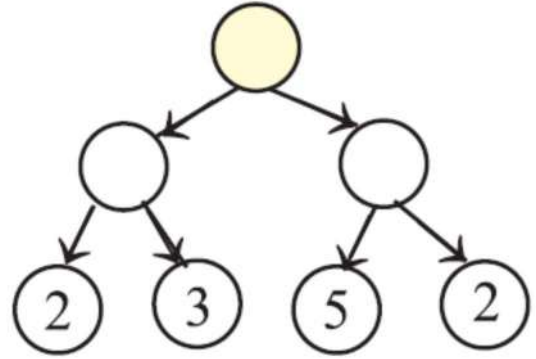
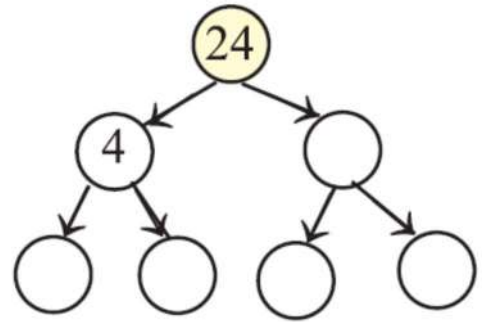
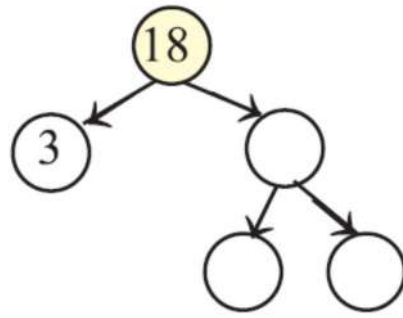
1. 12

جواب: 12 کے اجزائے ضربی: _____

2. 25

جواب: 25 کے اجزائے ضربی: _____

II. درج ذیل شجرہ خا کو مکمل کیجیے۔



III. حل کیجیے۔

1. 5 کے مضاعف پر دائرہ بنائیے

5 , 7 , 9 , 10 , 15 , 17 , 20 , 25 , 26 , 27

2. 7 کے مضاعف پر دائرہ بنائیے

7 , 13 , 14 , 21 , 22 , 35 , 36 , 42 , 45 , 47