

جماعت: VI

صلاحیت 6: زاویوں کو ناپنا اور شناخت کرنا

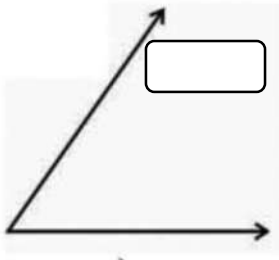
مضمون: حساب

نام:

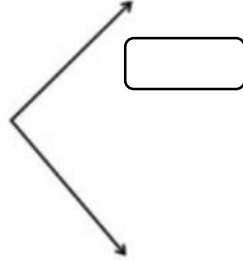
I. صحیح جواب منتخب کیجیے۔

1. زاویہ کی پیمائش کے لیے استعمال کیا جانے وال آلہ: _____ (پرکار، چاندہ، اسکیل)
2. دائرہ کی تشکیل کے لیے استعمال کیا جانے وال آلہ: _____ (پرکار، چاندہ، اسکیل)

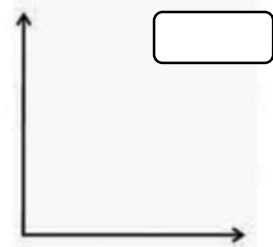
II. ذیل کے زاویوں کی پیمائش کرتے ہوئے ہر ایک زاویہ کی پیمائش لکھیے۔



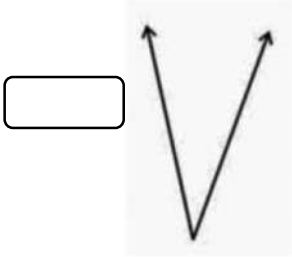
a)



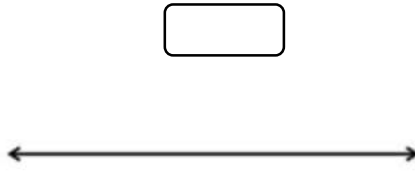
b)




c)



d)



e)



f)

III. درجہ ذیل پیمائشات کو جدول میں درج کیجیے۔

16°, 18°, 88°, 179°, 45°, 90°, 100°, 35°, 142°,

زاویہ مستقیم	زاویہ منفرجہ	زاویہ قائمہ	زاویہ حادہ