

سرکاری اردو----پرائمری اسکول

نام:	جماعت: سوّم	سبق کا نام: ☆ باغ کی سیر ☆	مضمون: اردو								
سوالات	1	2	3	4	5	6	7	8	9	10	کل
نشانات											

I مندرجہ ذیل سوالات کے مناسب جوابات لکھئے۔

1. سبز پرندہ ----- ہے۔
2. لمبی دم والا پرندہ ----- ہے۔
3. لمبے پیر والا پرندہ ----- ہے۔
4. انسان ----- جانور ہے۔
5. شیر ----- میں رہتا ہے۔

II مندرجہ ذیل سوالات کے جوابات لکھئے۔

6. چند جانوروں کے نام لکھو؟

جواب:

7. 5 پرندوں کے نام لکھو؟

جواب:

8. سب سے بڑا پرندہ کونسا ہے؟

جواب:

9. کسی 3 سبزی خور جانوروں کے نام لکھو؟

جواب:

10. کسی 3 گوشت خور جانوروں کے نام لکھو؟

جواب:

سرکاری اردو۔۔۔۔۔ پرائمری اسکول

نام:	جماعت: چہارم	سبق کا نام: ☆ عالم حیوانات ☆					مضمون: ماحولیات				
سوالات	1	2	3	4	5	6	7	8	9	10	کل
نشانے											

I مندرجہ ذیل کی خانہ پوری کرو۔

- (1) خرگوش کی غذا ----- ہے۔
- (2) مچھلی جیسے جاندار ----- میں رہتے ہیں۔
- (3) گھاس، بیج، پھل، وغیرہ کھانے والے جانور ----- کہلاتے ہیں۔
- (4) گوشت اور انڈے کھانے والے جانور ----- کہلاتے ہیں۔

II * جوڑ لگاؤ *

- (5) بیل اولن
- (6) بکرا انڈا
- (7) مرغی ہل چلانا

III مندرجہ ذیل سوالات کے جوابات لکھئے۔

- (8) ہمہ خور کسے کہتے ہیں؟

جواب:

- (9) جانوروں کے نام لکھو؟

جواب:

- (10) جانوروں کے فائدے لکھو؟

جواب

سرکاری اردو۔۔۔۔۔ پرائمری اسکول

نام:												جماعت: سوّم			سبق کا نام: ☆ خاکے ☆			مضمون: علم ریاضی		
سوالات	1	2	3	4	5	6	7	8	9	10	کل	نشانات								

I مندرجہ ذیل کے جملے صحیح - یا - غلط ہیں لکھو۔

- { } (1) مثلث \triangle کے 4 اضلاع ہوتے ہیں۔ صحیح - یا - غلط
- { } (2) ذواربعتہ اضلاع کے وتر نہیں ہوتے۔ صحیح - یا - غلط

II مندرجہ ذیل کی خانہ پوری کیجئے۔

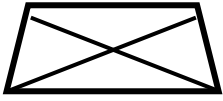




- (3) 3 کونے رکھنے والی شکل \triangle ----- ہے۔
- (4) جو فرش کو مکمل طور پر ڈھک سکتے ہیں انہیں ----- ٹائلس کہتے ہیں۔
- (5) جو فرش کو مکمل طور پر ڈھک نہیں سکتے انہیں ----- ٹائلس کہتے ہیں

III مندرجہ ذیل سوالات کے مناسب جوابات لکھئے۔

- (6) ذواربعتہ الاضلع  میں کتنے ضلع ہوتے ہیں؟

جواب:







- (7) دوابعادی شکلوں کے نام لکھو؟

جواب:

8) ذیل کے دو ابعادی (2) اشکال پر صحیح (صحیح) سے (3) ابعادی اشکال پر غلط (X) کا نشان لگاؤ۔

جواب:

9) پتہ ، ستارہ ، پھول ، وغیرہ شکلوں کون کونسے خطوط کی مدد سے بنا سکتے ہیں؟

جواب:

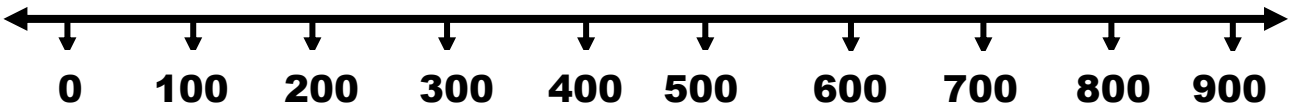
10) ٹیا نگرام سے کون کونسی شکلیں بنا سکتے ہیں؟

جواب

سرکاری اردو-----پرائمری اسکول

نام:											جماعت: سوّم				سبق کا نام: ☆ اعداد ☆				مضمون: علم ریاضی	
سوالات		1	2	3	4	5	6	7	8	9	10	کل		نشانات						

سوال نمبر (1) تین ہندسی سب سے چھوٹا عدد ----- ہے۔												
سوال نمبر (2) 350 کا اگلا عدد ----- ہے۔												
سوال نمبر (3) 811 کا پچھلا عدد ----- ہے۔												
سوال نمبر (4) ----- ، ----- ، ----- ، ----- ، ----- ، ----- ، 99 ، 100												
سوال نمبر (5) ----- ، ----- ، ----- ، ----- ، ----- ، ----- ، 390 ، 392												
سوال نمبر (6) الفاظ میں لکھو۔ 107:												
سوال نمبر (7) عدد میں لکھو۔ چار سو ننانوے :												
سوال نمبر (8) بڑے عدد پر حلقہ بناؤ۔ 560 ، 524 ، 548 ، 599 ، 571												
سوال نمبر (9) 567 ، 467 ، 967 ، 767 ، 267 ، کو بڑھتی ترتیب اور گھٹتی ترتیب میں لکھو ؟												
بڑھتی ترتیب												
گھٹتی ترتیب												
سوال نمبر (10) خط عدد پر 600 کو پہچان کر حلقہ بنائیں۔												



سرکاری اردو۔۔۔۔۔ پرائمری اسکول

نام:											
جماعت: چہارم											
سبق کا نام: ☆ ہندسی اشکال کا احاطہ ☆											
مضمون: علم ریاضی											
سوالات	1	2	3	4	5	6	7	8	9	10	کل
نشانات											

I مندرجہ ذیل سوالات کے مناسب جوابات لکھئے۔

1 △ مثلث میں۔۔۔۔۔ کونے ہوتے ہیں۔ (2) سادہ ہندسی اشکال کے اضلاع کی لمبائی کو۔۔۔۔۔ کہتے ہیں۔

(3) مربع سنٹی میٹر کی علامت۔۔۔۔۔ ہے۔۔۔۔۔ (4) 5 مربعے ہیں علامت میں لکھو:۔۔۔۔۔

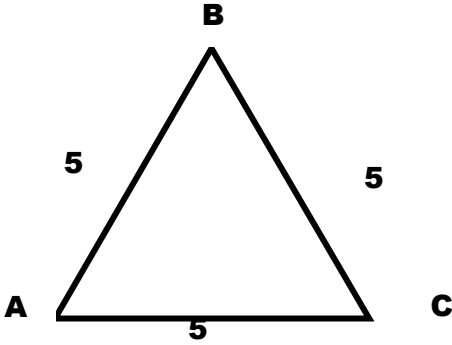
--	--	--	--	--

II مندرجہ ذیل سوالات کے مناسب جوابات لکھئے۔

(5) رقبہ کسے کہتے ہیں۔

جواب:

(6) اس شکل کا احاطہ معلوم کرو:




جواب:

(7) ذواربعتہ الاضلع  میں کتنے ضلعے ہوتے ہیں۔

جواب:

(8) رقبہ کو کونسے اکائی سے ظاہر کرتے ہیں۔

جواب:

(9) مربع  کے کتنے کونے ہوتے ہیں۔

جواب:

(10) سادہ ہندسی اشکال کے نام لکھو؟

