

6 M -9

Bridge Course Work Sheet -09

جماعت: VI

صلاحیت: 9: آسان اشکال کا احاطہ اور رقبہ معلوم کرنا

مضمون: حساب

نام:

اہم ضابطے:

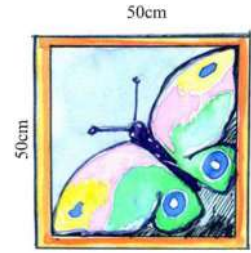
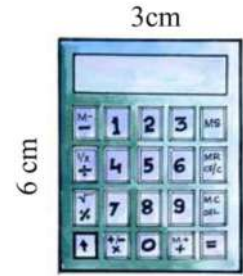
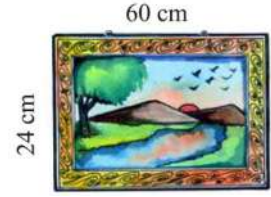
$$\text{چوڑائی} \times 2 + \text{لمبائی} \times 2 = \text{مستطیل کا احاطہ}$$

$$\text{لمبائی} \times 4 = \text{مربع کا احاطہ}$$

$$\text{چوڑائی} \times \text{لمبائی} = \text{مستطیل کا رقبہ}$$

$$\text{لمبائی} \times \text{لمبائی} = \text{مربع کا رقبہ}$$

I. درج ذیل تصاویر کا احاطہ معلوم کیجیے؟



II. درج ذیل تصاویر کا رقبہ معلوم کیجیے۔

