

متبادل تدریسی منصوبہ -22-2021

مضمون: سماجی سائنس

جماعت: 7

ماہ: اگست 2021

نمبر شمار	ماہ / ہفتہ	اہم اکتسابی نکات	اکتسابی سرگرمیاں	محاسبہ
1	اگست	سلطنت وجیا نگر 1- وجیا نگر سلطنت حکمرانوں کے کارنامے جاننا	سمویدا، teachmint، Whatsup وغیرہ کا استعمال کریں 1- کرناٹک پر حکمرانی کئے ہوئے راجاؤں کی فہرست بنائے۔ 2- وجیا نگر پر حکومت کرنے والے سنگما خاندان۔ سالو خاندان۔ تلوا خاندان اور ارویڈو خاندان کے متعلق معلومات اکٹھا کیجئے۔ 3- سلطنت وجیا نگر سبق میں آنے والے راجاؤں کی فہرست تیار کیجئے۔ 4- سلطنت وجیا نگر کے مشہور راجا۔ دیورایادوم [پراؤڈھ]۔ کرشنادیورایا۔ رام رایا کے متعلق بیان کیجئے۔ 5- سلطنت وجیا نگر کے سنگما خاندان کے مشہور راجا۔ دیورایادوم [پراؤڈھ] کے کارناموں کی یاد دہانی کرتے ہوئے، ملک ایران کے سفیر عبدالرزاق کی راجا کے حق میں کی گئی تعریف کے متعلق بحث کیجئے۔ 6- تلوا خاندان کے مشہور راجا کرشنادیورایا کی مشہور حکمرانی کو یاد دہانی کرتے ہوئے نقشہ کا مشاہدہ کیجئے۔	ورک شیٹ حل کرنا درسی عملی مشقی سرگرمیاں حل کرنا
2	اگست	2- سلطنت وجیا نگر کی حکمرانی سماجی حالات	1- ہمارے دیش کے منتشر انتظامیہ نظام حکومت کی فہرست تیار کرنا۔ 2- سلطنت وجیا نگر حکمرانی کے دور میں نظام حکومت کے متعلق معلومات اکٹھے کرنا۔	ورک شیٹ حل کرنا درسی عملی مشقی سرگرمیاں حل کرنا

	<p>3- ہمارے ریاستی عوام کی طرف سے منائے جانے والے مختلف تہوار- عیدوں کی فہرست تیار کیجئے۔</p> <p>4- ریاستی تہوار دسہرہ کی تصاویر اکٹھا کیجئے اور اس کی تاریخ کے متعلق بحث کیجئے۔</p> <p>5- سلطنت وجیانگر کے سماجی اور معاشی حالات کے متعلق بحث کیجئے۔</p> <p>6- سلطنت وجیانگر کے سکوں کی تصاویر اکٹھا کیجئے اور بحث کیجئے۔</p>	<p>معاشی حالات</p> <p>ادب وغیرہ کو جاننا</p>		
<p>ورک شیٹ حل کرنا</p> <p>درسی عملی مشقی سرگرمیاں حل کرنا</p>	<p>1- سلطنت وجیانگر کے فن اور فن تعمیرات کی دین کی تصاویر اکٹھا کرنا اور ان کی تاریخ کے متعلق بحث کرنا۔</p>	<p>3- سلطنت وجیانگر کے فن</p> <p>فن تعمیرات کی بناوٹ کو جاننا</p>	3	
<p>ورک شیٹ حل کرنا</p> <p>درسی عملی مشقی سرگرمیاں حل کرنا</p>	<p>1- جنوبی ہندوستان کے نقشہ میں سلطنت وجیانگر کی سرحدوں کی نشاندہی کرنا</p>	<p>4- نقشہ میں سلطنت وجیانگر کی سرحد کی نشاندہی کرنا</p>		

طالب علم کا نام: \_\_\_\_\_ رول نمبر:

مضمون: سماجی سائنس

جماعت: 7

1- دی گئی تصویر میں غور کرتے ہوئے ان کے متعلق لکھیے؟




---

---

---

---



---

---

---

---




---

---

---

---



---

---

---

---




---

---

---

---



---

---

---

---

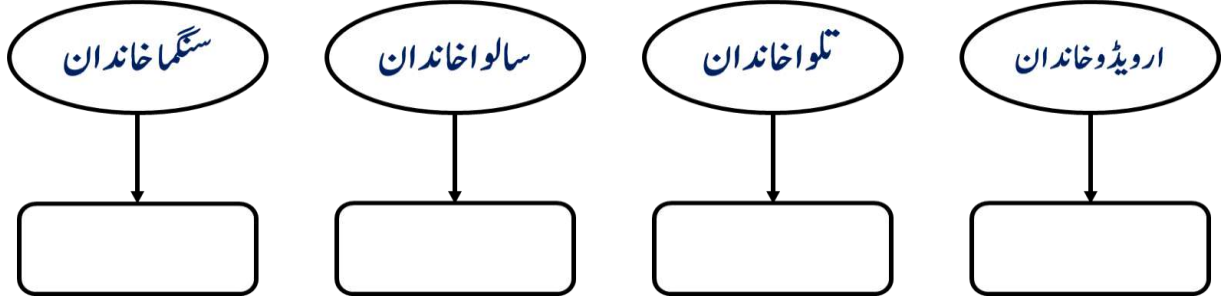
طالب علم کا نام: \_\_\_\_\_ رول نمبر:

مضمون: سماجی سائنس

جماعت: 7

1- مشہور راجا کے نام ان کے خاندان کے خانہ میں لکھئے؟

## سلطنت وجیا نگر



2- کیا آپ سلطنت وجیا نگر کے انتظامیہ حکومت کو موجودہ دور کی انتظامیہ حکومت کے ساتھ جوڑ لگا سکتے ہو؟

## سلطنت وجیا نگر کا نظام انتظامیہ

سلطنت

علاقہ

صوبہ

شہر

دیہات

## موجودہ دور کا نظام انتظامیہ

ریاست

3- جوڑ لگاؤ۔

A

گنگا دیوی

کمارویاس

کرشنا دیورایا

ودیاریا

B

گدگنا بھارت

شکر وجیا

مدھر اوجیا

جانبوتی کلیان

جماعت: 7 مضمون: سماجی سائنس طالب علم کا نام: \_\_\_\_\_ رول نمبر: \_\_\_\_\_

1- ذیل کے جدول میں القاب دئے گئے ہیں۔ کیا آپ راجا کا نام اور یہ القاب ملنے کی وجہ لکھ سکتے ہو؟

نمبر شمار	لقب	راجا کا نام	لقب ملنے کی وجہ
1	یادانا راجیہ پرتی شتتا چاریہ		
2	چتوسمرا دھیشورا		
3	آندھرا بھوجا		
4	وکت کوی		

2- درج ذیل کے راجاؤں کے دربار میں آنے والے غیر ملکی سفیر کے نام لکھئے؟

راجا کا نام	غیر ملکی سفیر کا نام	ملک	دیا گیا بیان
پراوڈھ دیورایا			
کرشنا دیورایا			

WS SS 7 NO – 5

1- ان کے کارنامے اپنے الفاظ میں لکھئے۔

1- پراوڈھ دیورایا: \_\_\_\_\_

\_\_\_\_\_

\_\_\_\_\_

2- کرشنا دیورایا: \_\_\_\_\_

\_\_\_\_\_

\_\_\_\_\_

طالب علم کا نام: \_\_\_\_\_ رول نمبر:

مضمون: سماجی سائنس

جماعت: 7

1- ذیل کے سوالات کے جوابات اپنے الفاظ میں لکھئے۔

1- کرشنا دیپوریا کے دربار کے اشد دیگوچیہ کے نام لکھئے؟


2- ہپسی کے مشہور جگہوں کے نام لکھئے؟


3- سلطنت وجیانگر کے تعمیرات ان جگہوں میں دیکھے جاسکتے ہیں؟


4- ر کس تنگڑی جنگ کے وجوہات اور اثرات لکھئے؟

جواب: \_\_\_\_\_

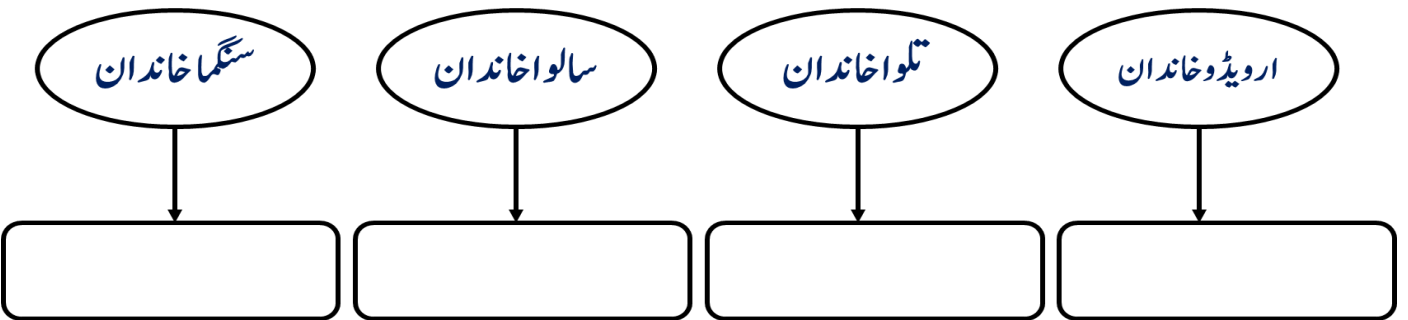
\_\_\_\_\_

\_\_\_\_\_

\_\_\_\_\_

\_\_\_\_\_

5- ذیل کے خاندان کے بانی کے نام لکھئے۔



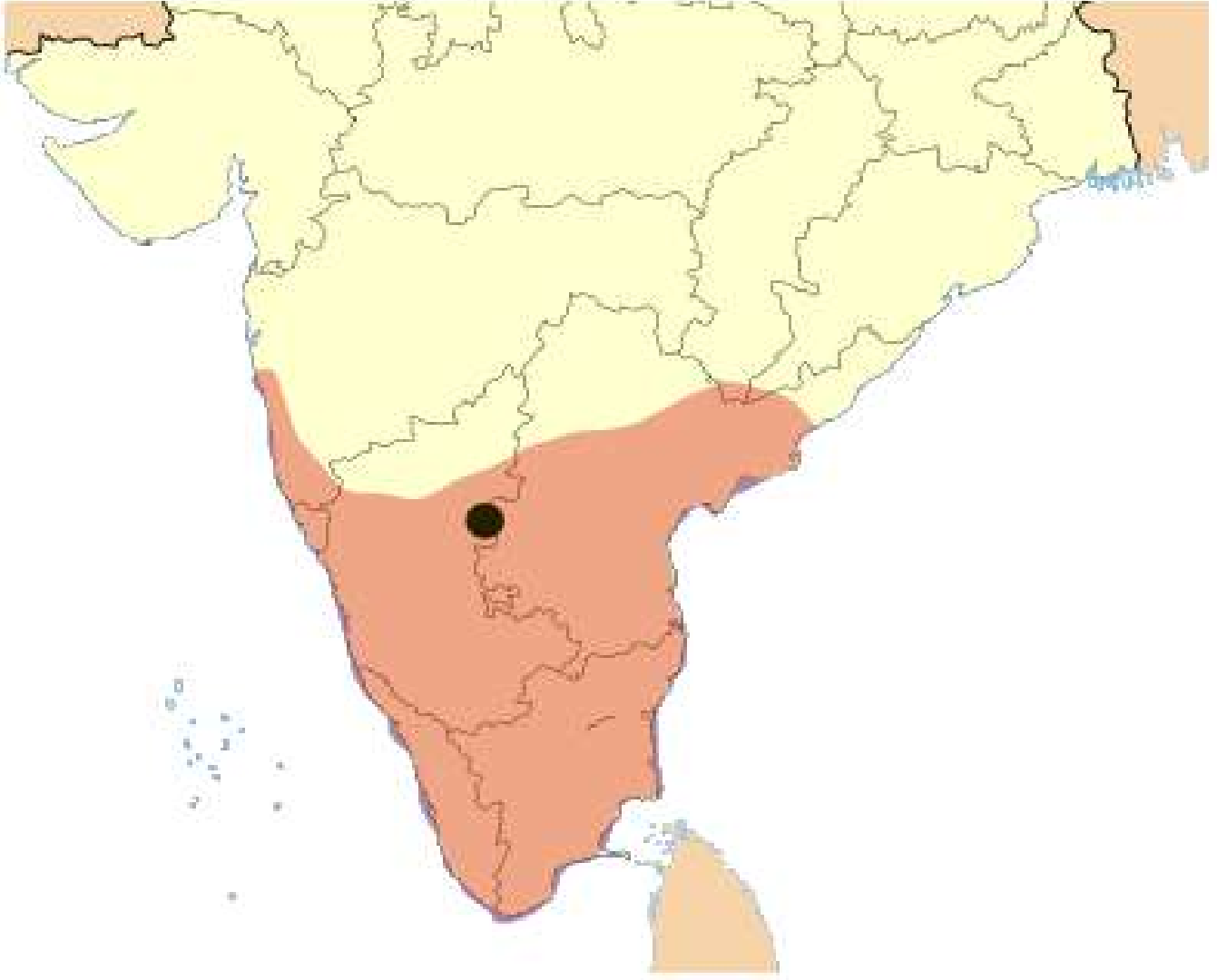
طالب علم کا نام:----- رول نمبر:

مضمون: سماجی سائنس

جماعت: 7

1- نقشہ میں ذیل کے مقامات کی نشاندہ کیجئے؟

منگلور۔ رانچور۔ کونڈپلی۔ مدھورائی۔ تاڑپتری۔ تروپتی



نمبر شمار	ماہ / ہفتہ	اہم اکتسابی نکات	اکتسابی سرگرمیاں	محاسبہ
2	اگست	<p>بہمنی عادل شاہی</p> <p>1- تاج الدین فیروز شاہ اور محمود گاواں کے کارناموں کے متعلق جانیں گے۔</p> <p>2- بہمنی سلطان کی ادب۔ فن۔ فن سنگ تراشی۔ تعمیرات</p> <p>کارنامے جاننا</p> <p>3- جنوبی ہندوستان کے نقشے میں بہمنی سلطنت کے اہم مقامات جاننا</p>	<p>سموید، teachmint، Whatsup وغیرہ کا استعمال کریں</p> <p>1- تاج الدین فیروز شاہ کے متعلق معلومات اکٹھا کرنا۔</p> <p>2- محمود گاواں کے کارناموں کی فہرست تیار کروانا۔</p> <p>3- مشہور بہمنی سلطانوں کی فہرست تیار کروانا۔</p> <p>4- اہم شاہی خاندانوں کی فہرست تیار کروانا۔</p> <p>5- ابراہیم عادل شاہ دوم ہندو مسلم یکجہتی کے لئے جانے جاتے تھے، بحث کیجئے۔</p> <p>6- بہمنی سلطان کی ادب۔ فن۔ فن سنگ تراشی۔ تعمیرات کے دین کی فہرست کروانا۔</p> <p>7- گول گنبد کس لئے مشہور ہے؟ جاننا</p> <p>8- بہمنی شاہی اور عادل شاہی کے تعمیرات کا البم تیار کروانا۔</p> <p>9- جنوبی ہندوستان کے نقشے میں بہمنی سلطنت کے اہم مقامات کی نشاندہی کروانا۔</p>	<p>ورک شیٹ حل کرنا</p> <p>درسی عملی مشقی سرگرمیاں حل کرنا</p>



طالب علم کا نام: \_\_\_\_\_ رول نمبر: \_\_\_\_\_

مضمون: سماجی سائنس

جماعت: 7

- 1- بہمنی سلطنت \_\_\_\_\_ عیسوی میں قائم ہوئی۔
- 2- بہمنی خاندان کا بانی \_\_\_\_\_ تھا۔
- 3- سلطان محمد شاہ سوم کا مشہور وزیر اعلیٰ \_\_\_\_\_ تھا۔
- 4- دینا کا دوسرا بڑا گنبد \_\_\_\_\_ ہے۔
- 5- کرناٹک کے پہلے مسلم حکمران \_\_\_\_\_ تھے۔
- 6- بہمنی سلطنت کے مشہور حکمرانوں کی فہرست بنائے؟


## WS SS 7 NO - 8

_____1
_____2
_____3
_____4

1- دئے گئے واقعات کو ترتیب وار لکھئے؟

1- گول گنبد کی تعمیر

2- بیدر میں مدرسہ کا قیام

3- ابراہیم روضہ کی تعمیر

4- بہمنی سلطنت کا قیام

2- صحیح جواب کا انتخاب کر کے جوڑ کر لکھئے۔

- |       |                   |                         |
|-------|-------------------|-------------------------|
| _____ | [a] تاریخ فرشتہ   | 1- ابراہیم عادل شاہ دوم |
| _____ | [b] کتاب نوری     | 2- توروے زراہری         |
| _____ | [c] علی نامہ      | 3- فرشتہ                |
| _____ | [d] توروے رامائین | 4- عبداللہ              |
| _____ | [e] ابراہیم نامہ  | 5- ملا نصر قی           |

3- ذیل میں بیچا پورا عادل شاہی حکمران کے نام دئے گئے ہیں ان کا دور کب سے کب تک تھا لکھئے۔

دور حکومت	عادل شاہی حکمران کے نام	نمبر شہر
	یوسف عادل شاہ	1
	اسلمیل عادل شاہ	2
	ابراہیم عادل شاہ اول	3
	علی عادل شاہ اول	4
	ابراہیم عادل شاہ دوم	5
	محمد عادل شاہ	6
	علی عادل شاہ دوم	7
	سکندر عادل شاہ	8

طالب علم کا نام: \_\_\_\_\_ رول نمبر:

مضمون: سماجی سائنس

جماعت: 7

1- بہمنی دور کے شاعروں کے نام دئے گئے ہیں ان کے تصانیف لکھئے؟

تصانیف	شاعر	نمبر شمار
	فرشتہ	1
	عبداللہ	2
	مٹانصرتی	3
	تورے رراہری	4

2- گول گنبد کے تعلق سے ذیل میں جملے دئے گئے ہیں صحیح غلط کی شناخت کیجئے۔

صحیح یا غلط کا نشان	گول گنبد سے متعلق جملے	نمبر شمار
	ابراہیم روضہ سے بھی عالی شان عمارت بنانے کی ٹھان کر محمود نے بیجا پور میں 1956 کو عالی شان گول گنبد تعمیر کروایا۔	1
	اس کے درمیان میں وسیع گنبد ہے۔	2
	گنبد کے اندرونی حصے میں سرگوشی دالان ہے۔	3
	یہ اس دور کی تکنیکی صلاحیت کا آئینہ ہے۔	4
	گول گنبد دنیا کا تیسرا بڑا گنبد ہے۔	5
	گول گنبد بھارت کا دوسرا بڑا گنبد ہے۔	6

WS SS 7 NO - 10

1- ذیل کے مقامات کی دئے گئے نقشہ میں نشانہ ہی کیجئے؟

1- وجیا پور 2- کلبرگی 3- احمد نگر 4- تالی کوٹ



اگست-2021

مبادل تدریسی منصوبہ -22-2021

WS SS 7 NO – 11

طالب علم کا نام: ----- رول نمبر:

مضمون: سماجی سائنس


جماعت: 7



نام:  
خصوصیت:



نام:  
خصوصیت:



نام:  
خصوصیت:




نام:  
خصوصیت:



نام:  
خصوصیت:



نام:  
خصوصیت:



نام:  
خصوصیت:



نام:  
خصوصیت:

مبادلہ تدریسی منصوبہ -22-2021

جماعت: 7

ماہ: اگست 2021

مضمون: سماجی سائنس

نمبر شمار	ماہ / ہفتہ	اہم اکتسابی نکات	اکتسابی سرگرمیاں	محاسبہ
3	اگست	شہریت ہمارا دستور 1- دستور کے معنی اور اہمیت جاننا 2- دستور کی تمہید کی اہمیت جاننا 3- بھارت کے دستور کے اہم خصوصیات جاننا اور سراہنا۔ 4- دستور سازی میں حصہ لینے والے شخصیات کے متعلق جاننا 5- جمہوریت کا مفہوم جاننا 6- تمام مذاہب مساوی ہیں اس کے نقطہ نظر کو سمجھ کر	سمویدا، teachmint، Whatsup وغیرہ کا استعمال کریں 1- قومی تہواروں کی فہرست تیار کروانا۔ 2- دستور کے معنی اور اہمیت کے متعلق بحث کرانا۔ 3- دستور کی تجویزات کو اکٹھا کرنا۔ 4- دستور کی تمہید میں درج اصول و ضوابط کے متعلق بحث کرنا۔ 5- بھارت کے دستور کی اہم خصوصیات کی فہرست تیار کروانا۔ 6- دستور سازی کمیٹی کے ممبران کی تصاویر اکٹھے کرنا۔	ورک شیٹ حل کرنا درسی عملی مشقی سرگرمیاں حل کرنا  ورک شیٹ حل کرنا درسی عملی مشقی سرگرمیاں حل کرنا

		روزمرہ زندگی میں عمل کرنا۔ 7-دستور کی عزت کرنے کا رجحان پیدا کرنا		
ورک شیٹ حل کرنا درسی عملی مشقی سرگرمیاں حل کرنا	1-بنیادی حقوق کے مفہوم کے متعلق بحث کرنا۔ 2-بنیادی حقوق کی فہرست تیار کروانا۔ 3-بنیادی حقوق اور فرائض کی اہمیت کے متعلق بحث کرنا۔ 4-ہر ایک شہری کے بنیادی فرائض کی فہرست تیار کرنا۔ 5-شہری اپنے بنیادی فرائض پر عمل ناکر نے کی صورت حال کی فہرست تیار کروائے۔	بنیادی حقوق اور فرائض 1-بھارت کی شہریوں کو فراہم کردہ بنیادی حقوق اور فرائض کو سمجھنا 2-دستور میں فراہم کردہ بنیادی حقوق اور فرائض کو سمجھ کر ان پر عمل کرنے کے لئے تیار رہنا۔ 3-اپنے حقوق کو حاصل کرنے میں کوئی دقت پیش آئے تو اپنے حقوق کو پانے کے ضوابط جاننا۔		4

طالب علم کا نام: \_\_\_\_\_ رول نمبر:

مضمون: سماجی سائنس

جماعت: 7

I- ذیل کے سوالات کے جوابات لکھئے۔

1- دستور کسے کہتے ہیں؟

جواب: \_\_\_\_\_

2- ہندوستان کے پہلے وزیر قانون کون تھے؟

جواب: \_\_\_\_\_

3- بھارت پارلیمان کے دو ایوان کے نام لکھئے؟

جواب: \_\_\_\_\_

4- ہمارے قومی تہواروں کے نام لکھئے؟

جواب: \_\_\_\_\_

5- ضعیف العمر شہری سے کیا مراد ہے؟

جواب: \_\_\_\_\_

6- دنیا کا سب سے بڑا جمہوری ملک کونسا ہے؟

جواب: \_\_\_\_\_

7- بھارت کا دستور کب عمل میں آیا؟

جواب: \_\_\_\_\_

8- جوڑ لگا کر لکھئے۔

جوابات

B

A

[a] دستور مسودہ کمیٹی کے صدر

1- ڈاکٹر بابو راجیندر پرساد

[b] دستور ساز اسمبلی کے صدر

2- ڈاکٹر بی۔ آر۔ امبیڈکر

[c] 18 سال

3- جواہر لال نہرو

[d] پہلے وزیر اعظم

4- رائے دہندگان کی عمر

اگست-2021

متبادل تدریسی منصوبہ-22-2021

WS SS 7 NO – 13

جماعت: 7 مضمون: سماجی سائنس طالب علم کا نام: \_\_\_\_\_ رول نمبر: \_\_\_\_\_

1- دستور ساز کمیٹی کے ممبران کی تصاویر درج ذیل دئے گئے ہیں پہچان کر ان کے نام لکھئے۔

			تصویر
			نام

WS SS 7 NO – 14

1- مندرجہ ذیل سوالات کے جوابات لکھئے۔

1- بھارت کے دستور کی اہمیت کیا ہے؟

جواب: \_\_\_\_\_

\_\_\_\_\_

\_\_\_\_\_

\_\_\_\_\_

\_\_\_\_\_

2- بھارت کے دستور کے اہم خصوصیات لکھئے؟

جواب: \_\_\_\_\_

\_\_\_\_\_

\_\_\_\_\_

\_\_\_\_\_

3- آپ کے دیش کے لئے عمل کئے جانے والے فرائض لکھئے؟

جواب: \_\_\_\_\_

\_\_\_\_\_

\_\_\_\_\_

\_\_\_\_\_

\_\_\_\_\_

WS SS 7 NO – 15

1- بھارت کے دستور کی تمہید کو ایک چارٹ میں چسپاں کیجئے؟



طالب علم کا نام: \_\_\_\_\_ رول نمبر:

مضمون: سماجی سائنس

جماعت: 7

1- نیچے دئے گئے بیانات کو نئے بنیادی حقوق سے تعلق رکھتے ہیں دئے گئے باکس میں لکھئے۔

نمبر شمار	بیان	حقوق
1	پرامن اجلاس اجلاس منعقد کرنے کی آزادی	
2	اقلیتوں کے مذہب و زبانوں مفادات کا تحفظ:	
3	غریبوں۔ عورتوں۔ بچوں اور کمزوروں پر استحصال نا کرنا:	
4	قانون کی نظر میں سب برابر ہیں:	
5	بنیادی حقوق کی حق تلفی ہو تو شہری عدالت میں مقدمہ درج کر سکتا ہے:	

II- ذیل میں دئے گئے ڈاگرام میں بنیادی حقوق لکھئے۔

