


**(1×5 = 5 Marks)**

## I: زبانی سوالات۔

1	اپنے ماحول میں موجود متشاکل شکل کا نام بتائیے۔	2	کوئی ایک غیر متشاکل شکل کا نام بتائیے۔	
3	کیا مستطیل متشاکل شکل ہے؟	4	اس شکل میں تشاکلی محور کی تعداد۔۔۔۔۔	
5	انگریزی حروفِ تہجی میں سے وہ حروف بتائے جن کی شکل آدھا چکر دینے پر نہیں بدلتی۔			


**1×3=3 Marks**

II- نیچے دی گئی تصاویر میں اوپر سے نیچے تک تشاکلی محور کھینچیں۔



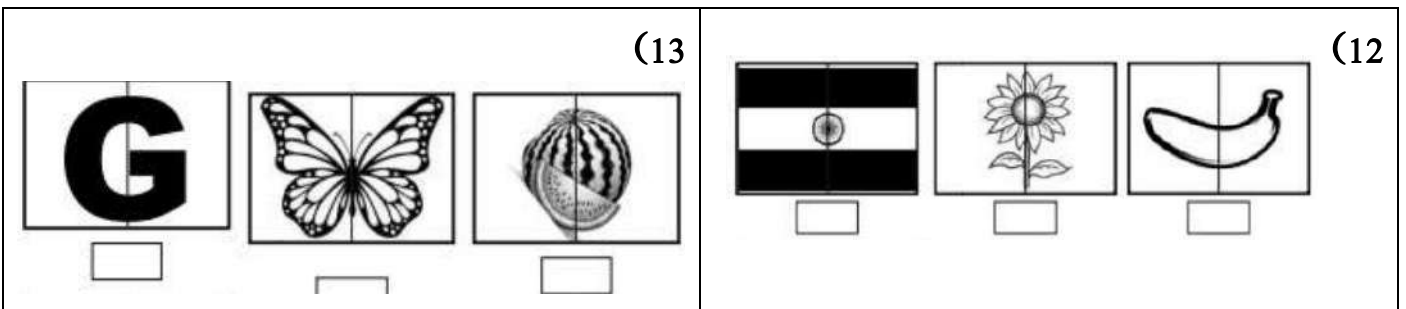
**1×3=3 Marks**

-III نیچے دی گئی تصاویر میں بائیں سے دائیں تک تشاکلی محور کھینچیں۔



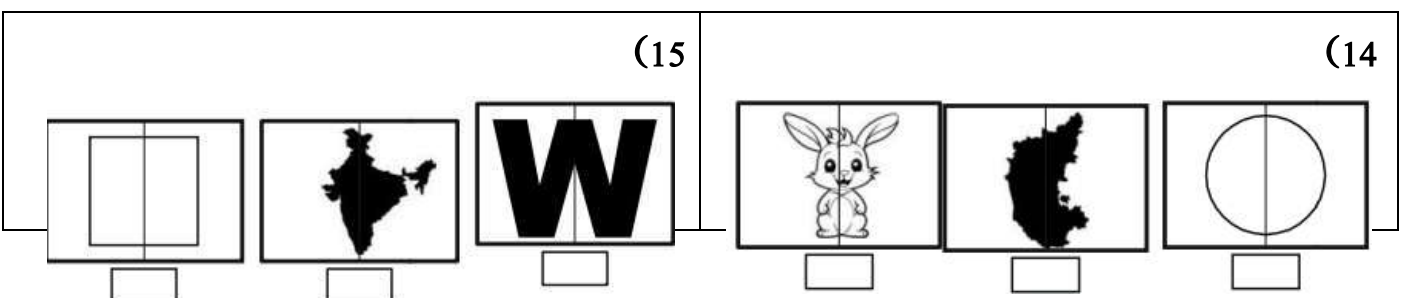
**1×2=2 Marks**

IV- نیچے دی گئی تصاویر میں تشاکلی محور دکھانے والی تصاویر کے خانے میں ✓ کا نشان لگائیں۔



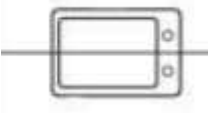


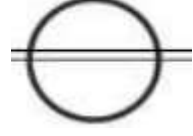

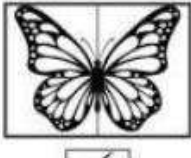






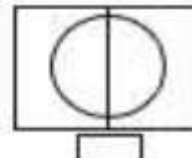
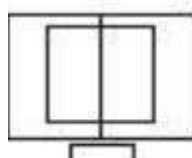

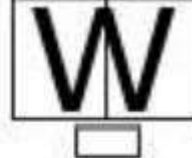


**1×2=2 Marks**

-V نیچے دی گئی تصاویر میں جو تشاکلی محور نہیں ہیں ان کے خانے میں X کا نشان لگائیں۔



Key Answers

جوابی پرچہ	
1	سلنڈر، کھڑکی، دروازہ،
2	کرنٹک کا نقشہ، ٹوٹے ہوئے شیشے کا ٹکڑا، بلا، بیگن
3	ہاں
4	2
5	X, O
6	 (7) 
8	 (9) 
10	 11 
12	   <input type="checkbox"/> <input checked="" type="checkbox"/> <input type="checkbox"/>
13	   <input checked="" type="checkbox"/> <input checked="" type="checkbox"/> <input type="checkbox"/>
14	   <input type="checkbox"/> <input checked="" type="checkbox"/> <input type="checkbox"/>
15	   <input type="checkbox"/> <input checked="" type="checkbox"/> <input type="checkbox"/>